

BUSTA N. 02

1° domanda:



Il candidato descriva quali sono i corretti accorgimenti per l'esecuzione dei lavori di sfalcio dell'erba presente nelle banchine, cunette, scarpate e pertinenze stradali con il decespugliatore.

2° domanda:

Il candidato illustri che cosa significa D.P.C. e ne elenchi alcuni.

3° domanda:

Il candidato descriva la differenza tra computo metrico e computo metrico estimativo.



Federico Pan



BUSTA N. 03

1° domanda:


Il candidato illustri quali sono le principali componenti di un allaccio fognario.

2° domanda:

Il candidato illustri la funzione dei dispositivi di protezione individuale.

3° domanda:

Il candidato descriva cosa si intende per quotatura di un disegno tecnico.



The image shows a handwritten signature in blue ink on the left, followed by the name 'TOMÉ' and 'FEDICO P.' written in blue ink. To the right of the name is another handwritten signature in blue ink.

BUSTA N. 04

1° domanda:

Il candidato descriva la differenza tra muratura portante e non portante.

2° domanda:

Rischio caduta dall'alto. Definizione e dispositivi di protezione adatti.

3° domanda:

Il candidato descriva cosa si intende per sezione nel disegno tecnico.



The image shows three handwritten signatures in blue ink. The first signature on the left is a stylized, abstract scribble. The middle signature is a cursive name that appears to be 'Fidico Pan'. The signature on the right is another cursive name, possibly 'Fardh'.

BUSTA N. 05

1° domanda:



In un parco pubblico è necessario ripulire da erbacce, sterpaglie e fare la manutenzione dei giochi e panchine di legno. Descrivi il procedimento, le attrezzature da utilizzare e tutti gli aspetti connessi.

2° domanda:

Cosa si intende per lavoro in quota e quali accorgimenti devi adottare in detta situazione?

3° domanda:

Il candidato descriva cosa si intende per la planimetria catastale.



BUSTA N. 07

1° domanda:


Il candidato descriva cosa si indica con il termine rinzaffo.

2° domanda:

Il candidato illustri quali sono i D.P.I. propri nell'utilizzo della motosega.

3° domanda:

Il candidato descriva cosa si intende per scale di rappresentazione di un disegno tecnico.



The image shows three handwritten signatures in blue ink. The first signature on the left is a stylized, abstract mark. The middle signature consists of two lines: the top line is a cursive 'M' followed by a horizontal line, and the bottom line is 'Federico Pan'. The signature on the right is a cursive 'Fentile'.

BUSTA N. 08

1° domanda:

Di fronte all'edificio municipale è presente un prato di 400 mq. Descrivi le operazioni pratiche che faresti per tenere il prato in ordine tutto l'anno. Quali interventi proponi e con quale cadenza, quali mezzi utilizzeresti, quali materiali e quali dispositivi di sicurezza.

2° domanda:

Il candidato illustri quali sono i D.P.I. propri nell'utilizzo del trapano elettrico.

3° domanda:

Il candidato descriva come leggere un disegno in scala.

BUSTA N. 09

1° domanda:


All'interno della scuola primaria sono presenti 5 aule. In un'aula una lampada si è staccata dal soffitto ed è pericolante. Descrivi nel dettaglio le operazioni che faresti per risolvere il problema. Come affronteresti il problema, quali mezzi utilizzeresti, quali materiali e quali dispositivi di sicurezza.

2° domanda:

Il candidato illustri quali sono i D.P.I. propri nelle operazioni di saldatura.

3° domanda:

Il candidato descriva cosa si intende per scala 1:100.



Handwritten signature in blue ink, appearing as 'Fede-ss Pan'.

Handwritten signature in blue ink, appearing as 'Fede-ss Pan'.

BUSTA N. 10

1° domanda:


Il candidato descriva la differenza tra interruttore, deviatore e invertitore.

2° domanda:

Rischio rumore. Definizione e dispositivi di protezione adatti.

3° domanda:

Il candidato descriva quale è la differenza tra scale di riduzione e scale ingrandimento nel disegno tecnico.



The image shows three handwritten elements in blue ink. On the left is a stylized signature consisting of a large loop and a horizontal line. In the center are the initials 'PM' above the name 'Pedro P.'. On the right is another stylized signature.

BUSTA N. 11

1° domanda:

Il candidato descriva la corretta procedura per la riparazione di un marciapiede dissestato a causa dell'ingrossamento di un albero.

2° domanda:

Il candidato illustri quali sono i D.P.I. propri nelle operazioni di sfalcio con il decespugliatore.

3° domanda:

Il candidato descriva cosa si intende per prospetto nel disegno tecnico.



The image shows three handwritten elements in blue ink. On the left is a stylized signature consisting of a large loop and a diagonal stroke. In the center, the name 'Pedica Pan' is written in a cursive script, with 'Pedica' on the top line and 'Pan' on the bottom line. On the right is another stylized signature with a large loop and a horizontal stroke.